

VERIFICA DI GEOGRAFIA

Rilievi e pianure

NOME

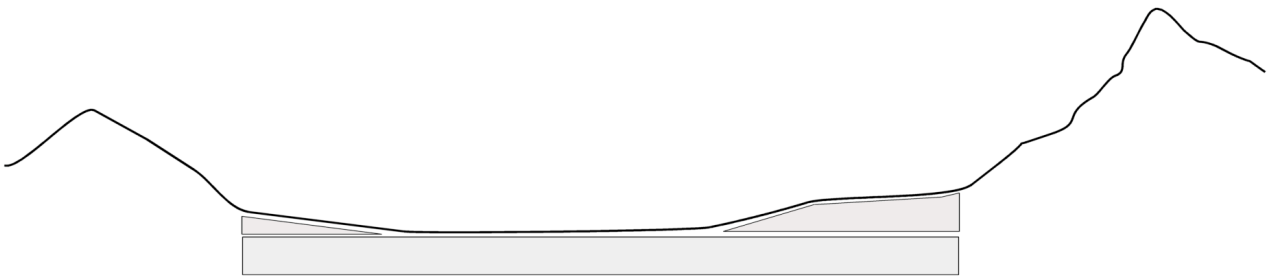
CLASSE

DATA

Rispondi alle seguenti domande:

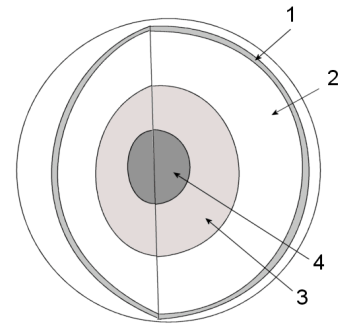
1. Il territorio pianeggiante si trova alle altitudini (s.l.m.) da metri a metri
2. Il territorio collinare si trova alle altitudini (s.l.m.) da metri a metri
3. La bassa montagna si trova alle altitudini (s.l.m.) da metri a metri
4. L'alta montagna si trova alle altitudini (s.l.m.) da metri

Indica nel disegno i due punti in cui si trova la linea delle risorgive:



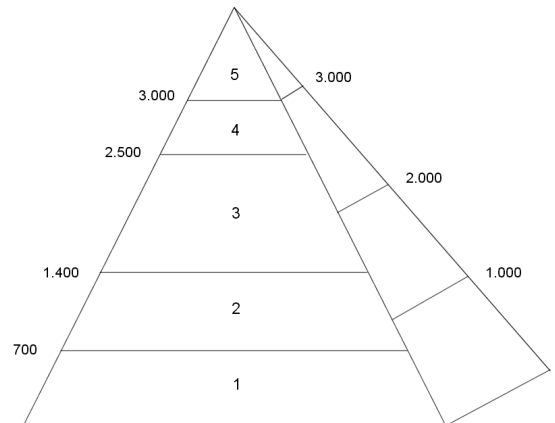
Indica i nomi degli strati che compongono la Terra:

1.
2.
3.
4.



Indica come si distribuisce la vegetazione in base all'altitudine:

1.
2.
3.
4.
5.



Descrivi le principali caratteristiche dei GHIACCIAI:

.....
.....
.....
.....
.....
.....

Descrivi le principali caratteristiche dei VULCANI:

.....
.....
.....
.....
.....
.....

Descrivi le principali caratteristiche delle PIANURE:

.....
.....
.....
.....
.....
.....
.....

Spiega il significato dei seguenti termini:

1. Orogenesi
2. Subduzione
3. Isoipse.....
4. Catena montuosa
5. Deposito morenico
6. Valle longitudinale

Voto