

# VERIFICA DI GEOGRAFIA

## Rilievi e pianure

NOME

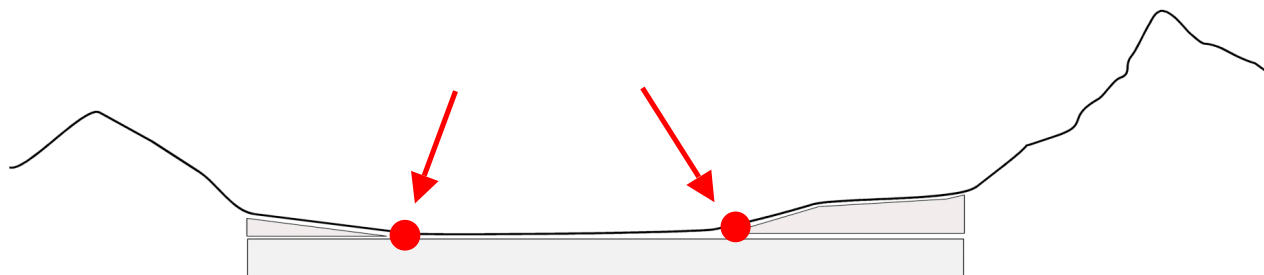
CLASSE

DATA

Rispondi alle seguenti domande:

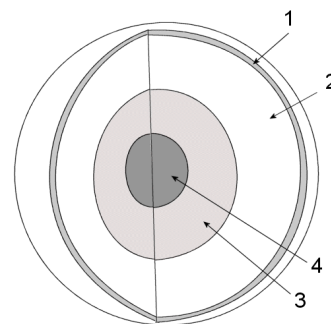
1. Il territorio pianeggiante si trova alle altitudini (s.l.m.) da metri ..... *0* ..... a metri ..... *200* .....
2. Il territorio collinare si trova alle altitudini (s.l.m.) da metri ..... *200* ..... a metri ..... *600* .....
3. La bassa montagna si trova alle altitudini (s.l.m.) da metri ..... *600* ..... a metri ..... *1200* .....
4. L'alta montagna si trova alle altitudini (s.l.m.) da metri ..... *1200* .....

Indica nel disegno i due punti in cui si trova la linea delle risorgive:



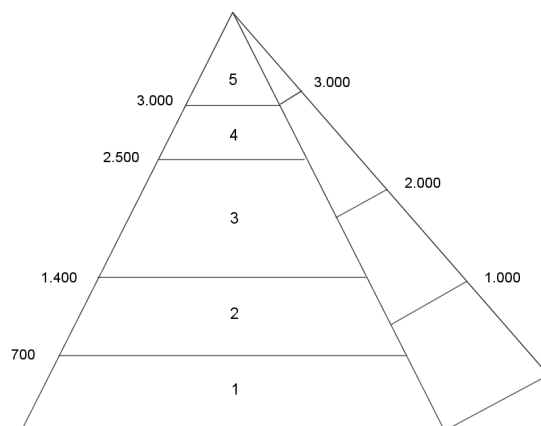
Indica i nomi degli strati che compongono la Terra:

1. *Crosta e litosfera*
2. *Mantello*
3. *Nucleo esterno*
4. *Nucleo interno*



Indica come si distribuisce la vegetazione in base all'altitudine:

1. *Querce e castagni*
2. *Faggi*
3. *Conifere*
4. *Arbusti*
5. *Nevi perenni*



**Descrivi le principali caratteristiche dei GHIACCIAI:**

*I ghiacciai sono depositi di neve posti al di sopra del limite delle nevi perenni.*

*Bacino collettore, lingua, fronte, depositi morenici, torrente glaciale.*

**Descrivi le principali caratteristiche dei VULCANI:**

*Sono rilievi formatisi dalla fuoriuscita del magma.*

*Camera magmatica, camini, crateri.*

*Sono a scudo o a cono, subaerei o subacquei, attivi o estinti.*

**Descrivi le principali caratteristiche delle PIANURE:**

*Territorio pianeggiante sotto i 200 metri s.l.m.*

*Pianure di erosione (scudi) e di sedimentazione (alluvionali).*

*Sono tra le zone più abitate dall'uomo.*

**Spiega il significato dei seguenti termini:**

1. Orogenesi ..... *Processo di formazione delle montagne*
2. Subduzione ..... *Scorrimento di una zolla sotto un'altra zolla*
3. Isoipse ..... *Linea immaginaria che indica tutti i punti che si trovano alla stessa altitudine*
4. Catena montuosa ..... *Serie di montagne allineate in modo ordinato*
5. Deposito morenico ..... *Deposito di detriti formato dai ghiacciai*
6. Valle longitudinale ..... *valle che costeggia le catene montuose (parallela ad esse)*

*Voto* .....